



وزارة التربية



إدارة الشؤون التعليمية
مراقبة الامتحانات وشؤون الطلبة



نموذج الإجابة

المرحلة المتوسطة

(صعوبات التعلم)

اختبارات نهاية الفصل الدراسي الثاني

المادة : الاجتماعيات

الصف : الثامن

العام الدراسي

2016 / 2017



• أجب عن جميع الأسئلة التالية :

السؤال الأول : (موضوعي) ويتكون من (أ - ب - ج - د - هـ)

(أ) : أكمل العبارات التالية بما يناسبها (لكل نقطة درجة = ٦ درجات)

- ١- أول الخلفاء الراشدين يسمى ... أبو بكر الصديق ص ٦٩
- ٢- فئة إجتماعية تهتم بالمعاملات التجارية من بيع وشراء تسمى ... التجار ص ٧٣
- ٣- الخليفة الأموي الذي أنشأ المسجد الجامع في القيروان يسمى ... هشام بن عبدالمك ص ٧٤
- ٤- المدينة التي يوجد فيها مقر الغرفة الإسلامية للتجارة والصناعة تسمى ... كراتشي ص ٨٥
- ٥- المسطح المائي الذي يحد السنغال من جهة الغرب يسمى ... الأطلسي (الإطلنطي) ص ٨٧
- ٦- المركز الحدودي الكويتي الذي هاجمه العراقيون عام ١٩٧٣ م يسمى ... الصامته ص ٩٠


(ب) : اختر الإجابة الصحيحة من بين البدائل التي تلي كل عبارة (لكل نقطة درجة = ٦ درجات)

- ١- المسجد الذي أقامه الوليد بن عبدالمك في دمشق عام ٨٨ هجرية : ص ٧٤
(الأقصى - الأموي - الأزهر - القيروان)
- ٢- النسبة التي تمثلها مساحة العالم الإسلامي بالنسبة لمساحة اليابس : ص ٨٣
(٢٥% - ٣٥% - ٤٥% - ٥٥%)
- ٣- المدينة التي يقع فيها مقر منظمة المؤتمر الإسلامي : ص ٨٥
(دبي - القاهرة - الرباط - جدة)
- ٤- جمهورية إسلامية استقلت عن الإتحاد السوفيتي عام ١٩٩١ م : ص ٨٨
(السنغال - كازخستان - باكستان - منغوليا)
- ٥- اللواء الكويتي الذي شارك في حرب يونيو عام ١٩٦٧ م : ص ١٠١
(الجهراء - بوبيان - اليرموك - السور)
- ٦- يعتبر الصندوق الكويتي للتنمية الإقتصادية أحد أفكار الشيخ : ص ١٠٤
(أحمد الجابر - عبدالله السالم - صباح السالم - جابر الأحمد)




(ج) : أكمل المخططات السهمية التالية (لكل نقطة درجة = ٦ درجات)

من مصادر بيت مال المسلمين ص ٧٠

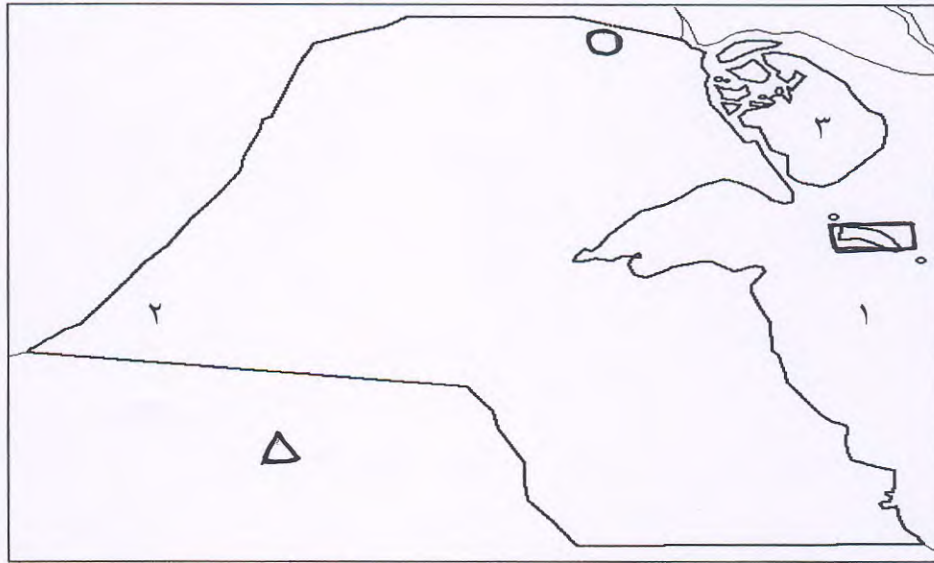


معابر الحضارة الإسلامية إلى أوروبا ص ٧٦



ص ٩١

(د) : لاحظ خريطة الكويت ، ثم أجب عما يليها من أسئلة (لكل نقطة درجة = ٦ درجات)



أولا : حدد على الخريطة ما يلي

- المملكة العربية السعودية بالرمز \triangle
- جزيرة فيلكا بالرمز \square
- مركز العبدلي الحدودي بالرمز \circ

ثانيا : اكتب مدلول الأرقام الموجودة على الخريطة

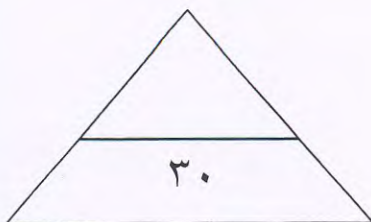
- الرقم (١) يدل على مسطح مائي يسمى الخليج العربي
- الرقم (٢) يدل على مركز حدودي يسمى السالمي
- الرقم (٣) يدل على جزيرة كويتية تسمى بوبيان

تابع / إمتحان نهاية الفصل الدراسي الثاني / الصف الثامن / الكويت والعالم الإسلامي / ٢٠١٦ - ٢٠١٧ م

(ه) : إختار للمجموعة (أ) ما يرتبط بها من المجموعة (ب) بوضع الرقم المناسب ص ٧٤ ، ٨٩ ، ٨٧ ، ١٠٧
(لكل نقطة درجة = ٦ درجات)

م	العالم	الرقم المناسب	العلم
١	الحسن بن الهيثم	٢	الطب
٢	الرازي	١	الفيزياء
٣	الإدريسي	٣	الجغرافيا
		التفسير

م	الدولة	الرقم المناسب	المدينة
١	السنغال	٣	أستانا
٢	المغرب	جدة
٣	كازخستان	١	داكار
		٢	فاس



السؤال الثاني : يتكون من (أ - ب)

(أ) : عرف ما يلي (لكل نقطة درجة = ٣ درجات)

- ١- حضارة : هي كل ما أنجزه الإنسان من رقي وتقدم بمختلف جوانب الحياة المادية والمعنوية . ص ٦٧
- ٢- الدولة الإسلامية : هي التي يكون عدد المسلمين فيها ٥٠ % أو أكثر ويحكمها حاكم مسلم . ص ٨٣
- ٣- الحدود السياسية: خطوط حددت بواسطة الإنسان ورسمت حتى تفصل بين سيادة دولة وأخرى . ص ٩٠

ص ١٠٥-١٠٦



(ب) : قارن بين كل من (لكل خانة درجة = ٤ درجات)

معيار المقارنة	بيت الزكاة	الهيئة الخيرية الإسلامية العالمية
عام التأسيس	١٩٨٢ م	١٩٨٦ م
أهم الأهداف	- جمع وتوزيع أموال الزكاة - القيام بأعمال الخير والبر - بث روح التكافل والتراحم بين أفراد المجتمع	- معاونة الفقراء والمرضى والايتام وتقديم المساعدات المالية والعينية - نشر الثقافة الاسلامية



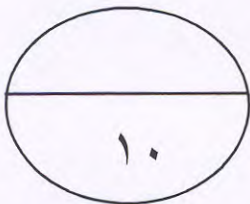
(ج) : علل لما يلي

ص ٩٤

- ١- إنتشار البطالة بين سكان العالم الإسلامي . (درجتان)
- * تزايد عدد السكان
 - * ضعف الدخل القومي
 - قلة المشاريع الاستثمارية

ص ٧٥

- ٢- تسمية بعض الصناعات الخشبية باسم صناعة الأرابيسك . (درجة)
- * نسبة الى العرب



(٤)

السؤال الثالث : يتكون من (أ - ب)



ص ٧٣

(أ) : فرق بين كل من (لكل خانة درجة = ٤ درجات)

مهام رجال الدين	مهام الحكام
متخصصين بالناحية الدينية من فتاوى دينية وغيرها مما يخدم المسلمين	يتولون شؤون الدولة الاسلامية السياسية والعسكرية
الخدم	أهل الذمة
يخصون للاعمال المنزلية	النصارى واليهود اللذين ظلوا على دينهم مع دفع الجزية

(ب) : فسر ما يلي

ص ٨٤



١- إزداد الأهمية الإستراتيجية لموقع العالم الإسلامي . (درجتان)
* سيطرته على عدد من المضائق المائية
* اشرافه على بعض البحار والخلجان والبحيرات

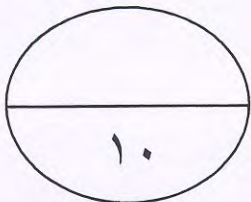
ص ٩٢

٢- معظم الدول الإسلامية لا تتبع الأساليب العلمية الحديثة . (درجة)
* انتشار الفقر والامية بين افراد المجتمع
- إهمال التخطيط الاقتصادي

(ج) : أكتب ما تعرفه عن

ص ١٠٧

- أهداف وكالة الأنباء الإسلامية الدولية (إينا) . (٣ درجات)
- إقامة علاقات وثيقة بين الدول الاعضاء وتميئتها في ميدان الاعلام
- تطوير الاتصال والتعاون الفني بين وكالات الانباء في الدول الاسلامية
- تعريف العالم بمشاكل الشعوب الاسلامية في المجالات المختلفة



السؤال الرابع : يتكون من (أ - ب)

(أ) : إقرأ الفقرة التالية ، ثم أجب عن الأسئلة التي تليها

(تعاني كثير من الدول الاسلامية من عجز في الميزان التجاري ، وهو الفرق بين قيمة الصادرات وقيمة الواردات . وكذلك انخفاض مستوى الدخل القومي نتيجة لقلّة الموارد الإقتصادية والتخلف التقني .)

١- عرف ما تحته خط : (درجة)

ص ٩٣

- الميزان التجاري : الفرق بين قيمة الصادرات وقيمة الواردات بالدولة

٢- فسر ما يلي : (درجتان)

ص ٩٣



* انخفاض مستوى الدخل القومي لبعض الدول الإسلامية .

- قلّة الموارد الإقتصادية

- التخلف التقني

(ب) : علل لما يلي

ص ١٠٤

- إنشاء الصندوق الكويتي للتنمية الإقتصادية العربية . (٣ درجات)



- تقديم القروض الميسرة للدول المحتاجة

- تقديم المنح على سبيل المعونات الفنية

- الاسهام في برامج التنمية

(ج) : إذكر اثنين لما يلي

ص ٩٩

١ - قرارات المؤتمر الإسلامي الخامس المنعقد في الكويت عام ١٩٨٧م . (درجتان)

- دعم القضية الفلسطينية / - وحدة لبنان / - ادانة الارهاب / - حل قضية القبارصة الاتراك

- مطالبة ايران بالاستجابة لمساعي السلام ووقف الحرب / - دعم مطالب جبهة تحرير مورو للتحرر

الوطني لمسلمي الفلبين

ص ١٠٨

٢ - أنشطة دار الآثار الإسلامية . (درجتان)

- إقامة المعارض داخل دولة الكويت وخارجها / - ترميم وصيانة الآثار الاسلامية

- دورات تدريبية للفنون الاسلامية

- إقامة مواسم ثقافية واسعة من خلال محاضرات حول الفنون الاسلامية